






# PLANEJAMENTO DO TRABALHO PEDAGÓGICO ESCOLA MUNICIPAL “FARID SALOMÃO”

PROFESSORA: BRANCA / “1º ANO A”

PERÍODO: De 01/03/2021 a 05/02/2021

## ROTINA Nº 1

SEGUNDA-FEIRA (01/03)	TERÇA-FEIRA (02/03)	QUARTA-FEIRA (03/03)	QUINTA-FEIRA (04/03)	SEXTA-FEIRA (05/03)
<p><b>AULA PELO ZOOM</b></p>  <p>NESTA AULA, VAMOS PARTICIPAR DA CHAMADA PARA VERIFICAR OS ESTUDANTES QUE FALTARAM E TAMBÉM CONVERSAR SOBRE O ALFABETO.</p> <p><b>UTILIZAREMOS A FOLHINHA DE Nº3.</b></p>	<p><b>ATIVIDADE DE MATEMÁTICA</b></p>  <p>NO CADERNO DE <b>MATEMÁTICA</b>-</p> <ul style="list-style-type: none"><li>• ROTINA: CABEÇALHO,</li><li>• NOME COMPLETO;</li><li>• FAÇA OS NUMERAIS DO 1 AO 10.</li></ul> <p>USE A FICHA DE ESTUDOS CASO TENHA DÚVIDAS.</p> <p><b>ATIVIDADE 2- FOLHINHA</b> NESTA AULA, VAMOS RELACIONAR OS NÚMEROS ÀS SUAS RESPECTIVAS QUANTIDADES.</p> <p>PARA FICAR MAIS LEGAL, QUE TAL OUVIRMOS A CANÇÃO QUE TEM OS NÚMEROS? ACESSE O LINK: <a href="https://youtu.be/orxxp-3gBiE">https://youtu.be/orxxp-3gBiE</a></p>	<p><b>ATIVIDADE DE PORTUGUÊS</b></p>  <p>NO CADERNO DE <b>PORTUGUÊS</b>-</p> <ul style="list-style-type: none"><li>• ROTINA: CABEÇALHO,</li><li>• NOME COMPLETO;</li><li>• FAÇA O ALFABETO E CIRCULE AS VOGAIS.</li></ul> <p>USE A FICHA DE ESTUDOS CASO TENHA DÚVIDAS.</p> <p><b>ATIVIDADE 1- FOLHINHA</b> NOMES PRÓPRIOS PINTE OS NOMES DOS <b>MENINOS</b> DA NOSSA TURMA DE <b>VERDE</b>, E DAS <b>MENINAS DE VERMELHO</b>.</p> <p>PARA FICAR MAIS LEGAL, QUE TAL OUVIRMOS A CANÇÃO QUE FALA DO ALFABETO? ACESSE O LINK: <a href="https://youtu.be/qEaERQIOiAY">https://youtu.be/qEaERQIOiAY</a></p>	<p><b>ATIVIDADE DE PORTUGUÊS</b></p>  <p>NO CADERNO DE <b>PORTUGUÊS</b>-</p> <ul style="list-style-type: none"><li>• ROTINA: CABEÇALHO,</li><li>• NOME COMPLETO;</li><li>• FAÇA O ALFABETO E CIRCULE AS VOGAIS.</li></ul> <p>USE A FICHA DE ESTUDOS CASO TENHA DÚVIDAS.</p> <p><b>ATIVIDADE 4- FOLHINHA</b> NOMES PRÓPRIOS QUE TAL HOJE ESCRIVERMOS UM NOME DE UM COLEGA DA SALA? USE AS LETRAS QUE ESTÃO NO ANEXO, RECORTE, MONTE E COLE EM SEU CADERNO.</p>	<p><b>JOGO</b></p>  <p>USE O LINK ABAIXO PARA ENTRAR NO SITE <b>JOGOS DO CLIQUE ESCOLA</b>. LÁ IREMOS DESCOBRIR MUITAS BRINCADEIRAS. MAS HOJE IREMOS USAR A BRINCADEIRA <b>BRINCANDO COM O ALFABETO- ENCAIXE AS LETRAS NA LAGARTA</b>".</p> <p><b>LINK DO JOGO:</b> <a href="http://www.cliqueescola.com.br/Jogos/04_Brincando_com_o_alfabeto/Lagarta/index.html">http://www.cliqueescola.com.br/Jogos/04_Brincando_com_o_alfabeto/Lagarta/index.html</a></p> <p>PRONTOS? VAMOS LÁ! CASO NÃO CONSIGA VIZUALIZAR O JOGO PELO LINK- ACESSE: <a href="http://www.cliqueescola.com.br">www.cliqueescola.com.br</a> <b>PROCURE PELO NOME DO JOGO: BRINCANDO COM O ALFABETO- ENCAIXE AS LETRAS NA LAGARTA.</b></p>

**ATIVIDADE Nº 1**PINTA DE **VERMELHO** O NOME DAS MENINAS E DE **VERDE** O DOS MENINOS

ALICE	EMILLY	ESTEVÃO	CLARA
JOABE	GUSTAVO	EMILY	WENDER
HEITOR	THIAGO	JOÃO LUCAS	SOFIA
MIRELLY	MARIA ANTONIA	JOÃO PEDRO	MILENI
LIVIA	OTAVIO	SOPHIA	VICTOR HUGO
TAINÁ	MARIA EDUARDA	MARIA HELENA	RAQUEL

ESCREVA SEU NOME DENTRO DO RETÂNGULO:

QUANTAS LETRAS ELE TEM:

QUAL É A PRIMEIRA LETRA:

QUAL É A ÚLTIMA LETRA:

**ATIVIDADE Nº 1**PINTA DE **VERMELHO** O NOME DAS MENINAS E DE **VERDE** O DOS MENINOS

ALICE	EMILLY	ESTEVÃO	CLARA
JOABE	GUSTAVO	EMILY	WENDER
HEITOR	THIAGO	JOÃO LUCAS	SOFIA
MIRELLY	MARIA ANTONIA	JOÃO PEDRO	MILENI
LIVIA	OTAVIO	SOPHIA	VICTOR HUGO
TAINÁ	MARIA EDUARDA	MARIA HELENA	RAQUEL

ESCREVA SEU NOME DENTRO DO RETÂNGULO:




QUANTAS LETRAS ELE TEM:

QUAL É A PRIMEIRA LETRA:

QUAL É A ÚLTIMA LETRA:




**ATIVIDADE Nº 2- MATEMÁTICA**  
**DATA: 02/03/2020**

JOÃO PEDRO E SUA MÃE DESENHARAM CORAÇÕES PARA PRESENTEAR SUAS TIAS E AVÓS.  
 ASSOCIE COM UMA SETA, OS NÚMEROS ÀS RESPECTIVAS QUANTIDADES DE  
 CORAÇÕES DE CADA COLEÇÃO.

<p>4 QUATRO</p>	
<p>6 SEIS</p>	
<p>7 SETE</p>	

**ATIVIDADE Nº 2- MATEMÁTICA**  
**DATA: 02/03/2020**

JOÃO PEDRO E SUA MÃE DESENHARAM CORAÇÕES PARA PRESENTEAR SUAS TIAS E AVÓS.  
 ASSOCIE COM UMA SETA, OS NÚMEROS ÀS RESPECTIVAS QUANTIDADES DE  
 CORAÇÕES DE CADA COLEÇÃO.


<p>4 QUATRO</p>	
<p>6 SEIS</p>	
<p>7 SETE</p>	

Objetivo: identificar e nomear letras do alfabeto, bem como escrever próprio nome e nome de colega autonomamente, relacionando-o com a pessoa.

# LETRAS E MAIS LETRAS!

PARA ESCREVER NOSSOS NOMES, USAMOS AS LETRAS.


PRIMEIRO, ESCREVA SEU NOME NO QUADRINHO E PINTE AS LETRAS QUE FAZEM PARTE DELE! FAÇA UM DESENHO DE SEU ROSTO PARA ILUSTRAR!



A B C D E F G H I J K L M N O  
P Q R S T U V W X Y Z

AGORA, ESCREVA O NOME DE UM COLEGA DA TURMA, PINTE AS LETRAS QUE FAZEM PARTE DE SEU NOME E FAÇA UM DESENHO DELE, PARA ILUSTRAR!

A B C D E F G H I J K L M N O  
P Q R S T U V W X Y Z



ATIVIDADE Nº 4 PORTUGUÊS  
DATA 04/03/2021

RECORTE, MONTE E DEPOIS COLE OS NOMES DOS AMIGOS NO  
CADERNO DE PORTUGUÊS.

R	I	O	T	H	E
---	---	---	---	---	---

COLE AQUI AS LETRAS QUE FORMAM O NOME DO AMIGO:  
HEITOR

--	--	--	--	--	--

\*\*\*\*\*

O	I	A	F	S
---	---	---	---	---

COLE AQUI AS LETRAS QUE FORMAM O NOME DA AMIGA:  
SOFIA

--	--	--	--	--

# PLANEJAMENTO DO TRABALHO PEDAGÓGICO ESCOLA MUNICIPAL “FARID SALOMÃO”

**PROFESSORA: BRANCA / “1º ANO A”**

**PERÍODO: De 08/03/2021 a 12/03/2021**

## ROTINA Nº 2

SEGUNDA-FEIRA (08/03)	TERÇA-FEIRA (09/03)	QUARTA-FEIRA (10/03)	QUINTA-FEIRA (11/03)	SEXTA-FEIRA (12/03)
<p><b>AULA PELO ZOOM</b></p>  <p>NESTA AULA, VAMOS PARTICIPAR DA LEITURA DE UM CONTO. APÓS, CONVERSAREMOS SOBRE O ASSUNTO, FAÇA UMA ILUSTRAÇÃO DA HISTÓRIA.</p> <p><b>. HORA DA HISTÓRIA</b></p>  <p><b>UTILIZAREMOS A FOLHINHA DE Nº3.</b></p>	<p><b>ATIVIDADE DE MATEMÁTICA</b></p>  <p>NO CADERNO DE <b>MATEMÁTICA</b>-</p> <ul style="list-style-type: none"><li>• ROTINA: CABEÇALHO,</li><li>• NOME COMPLETO;</li><li>• FAÇA OS NUMERAIS DO 10 AO 20.</li></ul> <p>USE A FICHA DE ESTUDOS CASO TENHA DÚVIDAS.</p> <p><b>ATIVIDADE 2- FOLHINHA</b></p> <p><b>COLEÇÕES E CONTAGENS</b> NESTA AULA, VAMOS CONTAR OS ELEMENTOS DE DUAS COLEÇÕES E REGISTRAR OS RESULTADOS.</p> <p><b>PARA FICAR MAIS LEGAL, QUE TAL ASSISTIR O VÍDEO SOBRE NÚMEROS E CONTAGENS:</b></p> <p><b>ACESSE O LINK:</b> <a href="https://youtu.be/qNBWqy5bCzk">https://youtu.be/qNBWqy5bCzk</a></p>	<p><b>ATIVIDADE DE PORTUGUÊS</b></p>  <p>NO CADERNO DE <b>PORTUGUÊS</b>-</p> <ul style="list-style-type: none"><li>• ROTINA: CABEÇALHO,</li><li>• NOME COMPLETO;</li><li>• FAÇA O ALFABETO E CIRCULE AS VOGAIS.</li></ul> <p>USE A FICHA DE ESTUDOS CASO TENHA DÚVIDAS.</p> <p><b>ATIVIDADE 1- FOLHINHA</b></p> <p>NESTA AULA, VAMOS ESCREVER E RECITAR A PARLENDA <b>SUCO QUENTE</b>. FIQUE ATENTO PARA NÃO ERRAR!</p> <p>APÓS, COMPLETE O ALFABETO.</p> <p><b>PARA FICAR MAIS LEGAL, QUE TAL ASSISTIR O VÍDEO SOBRE O ALFABETO:</b></p> <p><b>LINK:</b> <a href="https://www.youtube.com/watch?v=EvHkQ6yiZLk">https://www.youtube.com/watch?v=EvHkQ6yiZLk</a></p>	<p><b>ATIVIDADE DE PORTUGUÊS</b></p>  <p>NO CADERNO DE <b>PORTUGUÊS</b>-</p> <ul style="list-style-type: none"><li>• ROTINA: CABEÇALHO,</li><li>• NOME COMPLETO;</li><li>• FAÇA O ALFABETO E CIRCULE AS VOGAIS.</li></ul> <p>USE A FICHA DE ESTUDOS CASO TENHA DÚVIDAS.</p> <p><b>ATIVIDADE 4- FOLHINHA</b></p> <p><b>CANTIGA A CANOA VIROU</b></p>  <p><b>ASSISTA AO VIDEO:</b> <a href="https://youtu.be/L_3P21AQhQ4">https://youtu.be/L_3P21AQhQ4</a></p>	<p><b>JOGO</b></p>  <p>USE O LINK ABAIXO PARA ENTRAR NO SITE <b>JOGOS DO CLIQUE ESCOLA</b>. LÁ IREMOS DESCOBRIR MUITAS BRINCADEIRAS. MAS HOJE IREMOS USAR A BRINCADEIRA <b>CONTAGEM ATÉ 10- CONTAR AS CAIXAS NO CAMINHÃO</b>.</p> <p><b>LINK DO JOGO:</b> <a href="http://www.cliqueescola.com.br/Jogos/23_Contagem_10/Caixas_caminhao/index.html">http://www.cliqueescola.com.br/Jogos/23_Contagem_10/Caixas_caminhao/index.html</a></p> <p>PRONTOS? VAMOS LÁ! CASO NÃO CONSIGA VIZUALIZAR O JOGO PELO LINK- ACESE: <a href="http://www.cliqueescola.com.br">www.cliqueescola.com.br</a></p> <p><b>PROCURE PELO NOME DO JOGO: BRINCADEIRA CONTAGEM ATÉ 10- CONTAR AS CAIXAS NO CAMINHÃO.</b></p>

ATIVIDADE Nº1  
 DATA: 08/03/2021  
 PARLENDA- SUCO QUENTE

SUCO QUENTE  
 CABELO DIFERENTE  
 QUAL É A LETRA DO SEU CONFIDENTE?

COMPLETE O ALFABETO:

A		C	D	E	
					L
	N	O		Q	
S			V		X
	Z				

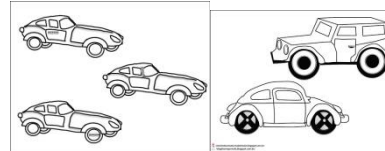
AGORA QUE VOCÊ APRENDEU A PARLENDA QUE TAL, DESENHAR?  
 CAPRICHE!

SUCO QUENTE	CABELO DIFERENTE
QUAL É A LETRA	DO SEU CONFIDENTE?

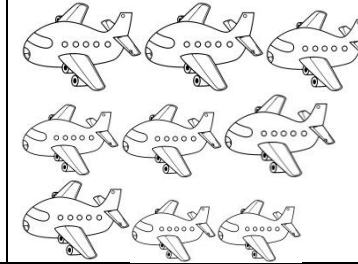
ATIVIDADE Nº 2- MATEMÁTICA  
 DATA: 09/03/2021

JOÃO PEDRO E SUA MÃE GOSTAM DE COLECIONAR MINIATURAS DE CARROS, MOTOS E AVIÕES. HOJE ELES ORGANIZARAM AS COLEÇÕES DE CARROS E DE AVIÕES.

CONTE QUANTAS MINIATURAS DE CARROS JOÃO PEDRO E SUA MÃE ORGANIZARAM E REGISTRE A QUANTIDADE NA LINHA ABAIXO.



JOÃO PEDRO ORGANIZOU AS MINIATURAS DE AVIÕES. QUANTAS ELE TEM? REGISTRE NA LINHA ABAIXO O RESULTADO.



REGISTRE NA LINHA A QUANTIDADE DE CARROS.

\_\_\_\_\_

REGISTRE NA LINHA A QUANTIDADE DE AVIÕES.

\_\_\_\_\_

QUE TAL AGORA COMPLETAR O QUADRO COM OS NÚMEROS QUE ESTÃO FALTANDO?

1		3		5
6				


**ATIVIDADE Nº3- AULA PELO ZOOM**

**DATA 10/03/2021**

**DEPOIS DE OUVIR A HISTÓRIA- "MINHA PROFESSORA É UM MONSTRO"- DE PETER BROW, DESENHE VOCÊ E A SUA PROFESSORA. CAPRICHE!**

**ATIVIDADE Nº 4- PORTUGUÊS- A CANOA VIROU**

**DATA: 11/03/2021**

 **VAMOS CANTAR E BRINCAR JUNTOS. DEPOIS, VAMOS COLORIR O PEIXINHO DESENHADO NA FOLHA.**

**A CANOA VIROU**

**POIS DEIXARAM ELA VIRAR**

**FOI POR CAUSA DO(A) \_\_\_\_\_**

**QUE NÃO SOUBE REMAR**

**SE EU FOSSE UM PEIXINHO**

**E SOUBESSE NADAR**

**EU TIRAVA O(A) \_\_\_\_\_**

**DO FUNDO DO MAR.**

(Origem Popular)



REGIÃO: SÃO PAULO - SÃO PAULO - SÃO PAULO

TURMAHÁ - ATIVIDADES EDUCATIVAS - WWW.TURMAHÁ.COM.BR

**A CANOA VIROU**

**FOI DEIXAR ELA VIRAR  
FOI POR CAUSA DO(A)**

**QUE NÃO SOUBE REMAR**



# PLANEJAMENTO DO TRABALHO PEDAGÓGICO ESCOLA MUNICIPAL “FARID SALOMÃO”

**PROFESSORA: BRANCA / “1º ANO A”**

**PERÍODO: De 15/03/2021 a 19/03/2021**

## ROTINA Nº 3

SEGUNDA-FEIRA (15/03)	TERÇA-FEIRA (16/03)	QUARTA-FEIRA (17/03)	QUINTA-FEIRA (18/03)	SEXTA-FEIRA (19/03)
<p><b>AULA PELO ZOOM</b></p>  <p>NESTA AULA, VAMOS PARTICIPAR DE UMA LEITURA CONTADA. O QUATI E SUA CASA APÓS, CONVERSAREMOS SOBRE O ASSUNTO, QUE TAL USAR A CRIATIVIDADE E DESENHAR O BICHO QUE VOCÊ TEM MAIS MEDO.</p> <p><b>. HORA DA HISTÓRIA</b></p>  <p><b>UTILIZAREMOS A FOLHINHA DE Nº3.</b></p> <p><b>Link da história:</b> <a href="https://youtu.be/JRhApcfuubQ">https://youtu.be/JRhApcfuubQ</a></p>	<p><b>ATIVIDADE DE MATEMÁTICA</b></p>  <p>NO CADERNO DE <b>MATEMÁTICA-</b></p> <ul style="list-style-type: none"><li>• ROTINA: CABEÇALHO,</li><li>• NOME COMPLETO;</li><li>• FAÇA OS NUMERAIS DO 20 AO 30.</li></ul> <p>USE A FICHA DE ESTUDOS CASO TENHA DÚVIDAS.</p> <p><b>ATIVIDADE 2- FOLHINHA QUADRO DE NÚMEROS E SEQUÊNCIA DE NÚMEROS. VERIFICAR SE A CRIANÇA RECONHECE OS NÚMEROS.</b></p> <p><b>PARA FICAR MAIS LEGAL, QUE TAL ASSISTIR O VÍDEO SOBRE NÚMEROS E CONTAGENS:</b></p> <p><b>ACESSE O LINK:</b> <a href="https://www.youtube.com/watch?v=nTrgYOzpnD">https://www.youtube.com/watch?v=nTrgYOzpnD</a></p>	<p><b>ATIVIDADE DE PORTUGUÊS</b></p>  <p>NO CADERNO DE <b>PORTUGUÊS-</b></p> <ul style="list-style-type: none"><li>• ROTINA: CABEÇALHO,</li><li>• NOME COMPLETO;</li><li>• FAÇA O ALFABETO E CIRCULE AS VOGAIS.</li></ul> <p>USE A FICHA DE ESTUDOS CASO TENHA DÚVIDAS.</p> <p><b>ATIVIDADE 1- FOLHINHA</b></p> <p>FAÇA NO CADERNO. NESTA AULA, VAMOS ESCREVER ALGUMAS BRINCADEIRAS CONHECIDAS PELA NOSSA FAMÍLIA E DEPOIS ESCOLHER UMA PARA DESENHAR.</p> <p><b>PARA FICAR MAIS LEGAL, QUE TAL ASSISTIR O VÍDEO SOBRE BRINCADEIRAS ANTIGAS.</b></p> <p><b>LINK:</b> <a href="https://www.youtube.com/watch?v=6dOZPWQ9Cs">https://www.youtube.com/watch?v=6dOZPWQ9Cs</a></p>	<p><b>ATIVIDADE DE PORTUGUÊS</b></p>  <p>NO CADERNO DE <b>PORTUGUÊS-</b></p> <ul style="list-style-type: none"><li>• ROTINA: CABEÇALHO,</li><li>• NOME COMPLETO;</li><li>• FAÇA O ALFABETO E CIRCULE AS VOGAIS.</li></ul> <p>USE A FICHA DE ESTUDOS CASO TENHA DÚVIDAS.</p> <p><b>ATIVIDADE 4- FOLHINHA</b></p> <p>NESTA AULA, VAMOS CONVERSAR SOBRE UMA PESQUISA DE BRINCADEIRAS PREFERIDAS. FAÇA UMA ENQUETE COM SUA FAMÍLIA USANDO A TABELA. APÓS, MARQUE UM “X” NA BRINCADEIRA PREFERIDA PELA FAMÍLIA.</p>	<p><b>JOGO</b></p>  <p>USE O LINK ABAIXO PARA ENTRAR NO SITE <b>JOGOS DO CLIQUE ESCOLA</b>. LÁ IREMOS DESCOBRIR MUITAS BRINCADEIRAS. MAS HOJE IREMOS USAR A BRINCADEIRA <b>CONTAGEM ATÉ 10- COMBINANDO NÚMEROS</b>.</p> <p><b>LINK DO JOGO:</b> <a href="http://www.cliqueescola.com.br/Jogos/23_Contagem_10/Combinando_numeros/index.html">http://www.cliqueescola.com.br/Jogos/23_Contagem_10/Combinando_numeros/index.html</a></p> <p>PRONTOS? VAMOS LÁ! CASO NÃO CONSIGA VIZUALIZAR O JOGO PELO LINK- ACESSE: <a href="http://www.cliqueescola.com.br">www.cliqueescola.com.br</a></p> <p><b>PROCURE PELO NOME DO JOGO: BRINCADEIRA CONTAGEM ATÉ 10- COMBINANDO NÚMEROS.</b></p>

**ATIVIDADE DE PORTUGUÊS****DATA: 15/03/2021**

DEPOIS DE FAZER UMA LISTA DAS BRINCADEIRAS PREFERIDAS DA FAMÍLIA, ESCOLHA UMA QUE VOCÊ MAIS GOSTA E DESENHE NO QUADRO A SEGUIR.

NOME DA BRINCADEIRA ESCOLHIDA: _____
---

**ATIVIDADE Nº2- MATEMÁTICA****DATA: 16/03/2021**

JULIANA MOSTROU A SEU FILHO JOÃO PEDRO UMA SEQUÊNCIA DE NÚMEROS E PEDIU A ELE QUE INDICASSE OS NÚMEROS QUE ELA FOSSE DIZENDO.

1	2	3	4	5	6	7	8	9	10
---	---	---	---	---	---	---	---	---	----

PROCURE PELOS NÚMEROS EM DESTAQUE E PINTE NO QUADRO DE NÚMEROS.

1-3-9-5

.....

**ATIVIDADE Nº3- AULA PELO ZOOM****DATA: 17/03/2021**

DESENHE NO ESPAÇO ABAIXO, O BICHO QUE VOCÊ TEM MAIS MEDO.

NOME DO BICHO: _____
-------------------------

FAÇA UMA ENQUETE COM SUA FAMÍLIA USANDO A TABELA ABAIXO: QUAL É A BRINCADEIRA PREFERIDA DA SUA FAMÍLIA?

BRINCADEIRAS	MARQUE UM "X"
BOLINHA DE GUDE	
PULA CORDA	
PEGA-PEGA	
ESCONDE-ESCONDE	
COELHINHO SAI DA TOCA	
AMARELINHA	

ESCREVA O NOME DE OUTRA BRINCADEIRA QUE NÃO APARECEU NA ENQUETE:

NOME DA BRINCADEIRA: _____ _____
-------------------------------------

DESENHE UMA BRINCADEIRA.

Escola: \_\_\_\_\_

Data: \_\_\_\_\_ Turma: \_\_\_\_\_ **EDUCALUNOS.COM**


Aluno: \_\_\_\_\_

## QUAL É A LETRA?


COMPLETE OS NOMES DAS FIGURAS COM AS LETRAS QUE ESTÃO FALTANDO.



P \_ T \_ C \_




C \_ R D \_




B \_ C \_ C L \_ T \_




B \_ N \_ C \_



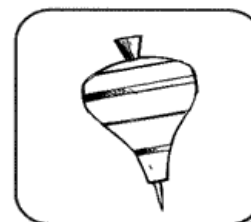
C \_ R R \_ N H \_



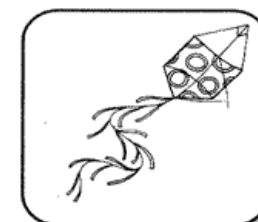
P \_ T \_ N S



B \_ L \_



P \_ \_ \_








P \_ P \_

# PLANEJAMENTO DO TRABALHO PEDAGÓGICO ESCOLA MUNICIPAL “FARID SALOMÃO”

PROFESSORA: ELAINE AMORIM / “1º ANO B”

PERÍODO: De 22/03/2021 a 26/03/2021

ROTINA Nº 4

SEGUNDA-FEIRA (22/03)	TERÇA-FEIRA (23/03)	QUARTA-FEIRA (24/03)	QUINTA-FEIRA (25/03)	SEXTA-FEIRA (26/03)
<p><b>AULA PELO ZOOM</b></p>  <p>NESTA AULA, VAMOS PARTICIPAR DE UMA LEITURA CONTADA. O CAMELO, O BURRO E A ÁGUA- MARINA BASTOS. APÓS, CONVERSAREMOS SOBRE O ASSUNTO.</p> <p><b>HORA DA HISTÓRIA</b></p>  <p>Link da história: <a href="https://youtu.be/jEW-m6gbRQY">https://youtu.be/jEW-m6gbRQY</a></p>	<p><b>ATIVIDADE DE MATEMÁTICA</b></p>  <p>NO CADERNO DE <b>MATEMÁTICA</b>-</p> <ul style="list-style-type: none"><li>• ROTINA: CABEÇALHO,</li><li>• NOME COMPLETO;</li><li>• FAÇA OS NUMERAIS DO 30 AO 40.</li></ul> <p>USE A FICHA DE ESTUDOS CASO TENHA DÚVIDAS.</p> <p><b>ATIVIDADE 2- FOLHINHA</b></p> <p>NESTA AULA, VAMOS LER E ESCREVER NÚMEROS. LEIA OS NÚMEROS JUNTO COM ALGUM FAMILIAR E DEPOIS ESCREVA OS NÚMEROS DITADOS POR ELE DENTRO DOS RETÂNGULOS. APÓS, CONTE OS PEIXINHOS DO AQUÁRIO E COLOQUE A QUANTIDADE DENTRO DOS QUADRADINHOS.</p>	<p><b>ATIVIDADE DE PORTUGUÊS</b></p>  <p>NO CADERNO DE <b>PORTUGUÊS</b>-</p> <ul style="list-style-type: none"><li>• ROTINA: CABEÇALHO,</li><li>• NOME COMPLETO;</li><li>• FAÇA O ALFABETO E CIRCULE AS VOGAIS.</li></ul> <p>USE A FICHA DE ESTUDOS CASO TENHA DÚVIDAS.</p> <p><b>ATIVIDADE 1- FOLHINHA</b></p> <p>NESTA AULA, IREMOS ESCREVER UMA LISTA DE 4 CONTOS CONHECIDOS.</p> <p><b>HOJE É O DIA MUNDIAL DA ÁGUA. QUE TAL ASSISTIRMOS UMA CANÇÃO QUE FALA DA IMPORTÂNCIA DELA? E VOCÊ? JÁ ECONOMIZOU ÁGUA HOJE?</b></p> <p><a href="https://youtu.be/bkr1wS8D-6A">https://youtu.be/bkr1wS8D-6A</a> DEPOIS DE ASSISTIR QUE TAL DESCOBRIRMOS O QUE A MÔNICA IRÁ BEBER?</p>	<p><b>ATIVIDADE DE PORTUGUÊS</b></p>  <p>NO CADERNO DE <b>PORTUGUÊS</b>-</p> <ul style="list-style-type: none"><li>• ROTINA: CABEÇALHO,</li><li>• NOME COMPLETO;</li><li>• FAÇA O ALFABETO E CIRCULE AS VOGAIS.</li></ul> <p>USE A FICHA DE ESTUDOS CASO TENHA DÚVIDAS.</p> <p><b>ATIVIDADE 3- FOLHINHA</b></p> <p>ANTES DE FAZER A LIÇÃO, QUE TAL OUVIRMOS UMA HISTÓRIA? OUÇA A HISTÓRIA DE CHAPEUZINHO VERMELHO PARA RESPONDER AS QUESTÕES DA FOLHINHA.</p> <p><b>LINK:</b> <a href="https://www.youtube.com/watch?v=GVEb9K9lyzQ">https://www.youtube.com/watch?v=GVEb9K9lyzQ</a></p>	<p><b>JOGO</b></p>  <p>USE O LINK ABAIXO PARA ENTRAR NO SITE <b><u>JOGOS DO CLIQUE ESCOLA.</u></b> LÁ IREMOS DESCOBRIR MUITAS BRINCADEIRAS. MAS HOJE IREMOS USAR A BRINCADEIRA <b>CONTAGEM ATÉ 10- RELACIONAR NÚMERO A QUANTIDADE. LINK DO JOGO:</b> <a href="http://www.cliqueescola.com.br/Jogos/23_Contagem_10/Numero_quantidade/index.html">http://www.cliqueescola.com.br/Jogos/23_Contagem_10/Numero_quantidade/index.html</a> PRONTOS? VAMOS LÁ! CASO NÃO CONSIGA VIZUALIZAR O JOGO PELO LINK- ACESSE: <a href="http://www.cliqueescola.com.br">www.cliqueescola.com.br</a> <b>PROCURE PELO NOME DO JOGO: BRINCADEIRA CONTAGEM ATÉ 10- RELACIONAR NÚMERO A QUANTIDADE. AMANHÃ SERÁ O DIA DO CIRCO. QUE TAL ASSISTIRMOS UM FILME? APROVEITE PARA RECORDAR DE TODOS OS ARTISTAS 8</b> <b>LINK:</b> <a href="https://www.youtube.com/watch?v=n5mJQhwS0oc">https://www.youtube.com/watch?v=n5mJQhwS0oc</a></p>

**QUAL É O CONTO?**

OBSERVE AS IMAGENS DE ALGUNS CONTOS DE FADA ABAIXO. PINTE CADA CÍRCULO UMA COR DIFERENTE E ESCREVA O NOME DO CONTO AO QUAL SE REFEREM:



USE O BANCO DE PALAVRAS  
**BRANCA DE NEVE E OS SETE ANÕES**  
**CINDERELA**  
**CHAPUZINHO VERMELHO**  
**RAPUNZEL**

AGORA, LEIA CADA FRASE, DESCUBRA A QUAL CONTO DE FADAS SE REFERE E PINTE CÍRCULOS DAS CORES CORRESPONDENTES À LEGENDA QUE VOCÊ CRIOU:

A MADRASTA TEM UM ESPELHO MÁGICO.

VOVÓ FICOU DOENTE E A MENINA LHE LEVA DOCES, PARA AGRAVAR.

ELA VIVE EM UMA CASA COM A MADRASTA E AS DUAS FILHAS DA MADRASTA.

A PRINCESA FICA PRESA EM UMA TORRE NO MEIO DE UMA FLORESTA.

A MOÇA PERDE UM DE SEUS SAPATINHOS NO MOMENTO EM QUE SAI DO GRANDE BAILE DO CASTELO.

O LOBO MAU ESTÁ FAMINTO E PRETENDE SABOREAR A VOVÓ E A NETINHA.

A PRINCESA ENCONTRA ABRIGO NA FLORESTA, EM UMA CASA ONDE MORAM 7 ANÕES.

A ÚNICA FORMA DE ENTRAR NA TORRE É ESCALAR OS LONGOS CABELOS DA PRINCESA.

QUAL DESSES CONTOS É O SEU FAVORITO? USE O ESPAÇO ABAIXO PARA FAZER DESENHO DELE:

**ATIVIDADE Nº 3- PORTUGUÊS**

**DATA: 25/03/2021**

LEIA AS PALAVRAS ABAIXO E PINTE SOMENTE AS QUE APARECEM NA HISTÓRIA DA CHAPEUZINHO VERMELHO:

ANÃO

VOVÓ

RAINHA

SAPO

LOBO

PORQUINHOS

DOCE

GIGANTE

MAÇÃ



Armário do Professor






# PLANEJAMENTO DO TRABALHO PEDAGÓGICO ESCOLA MUNICIPAL “FARID SALOMÃO”

**PROFESSORA: BRANCA / “1º ANO A”**

**PERÍODO: De 29/03/2021 a 02/04/2021**

## ROTINA Nº 5

SEGUNDA-FEIRA (29/03)	TERÇA-FEIRA (30/03)	QUARTA-FEIRA (31/03)	QUINTA-FEIRA (01/04)	SEXTA-FEIRA (02/04)
<p><b>AULA PELO ZOOM</b></p>  <p>NESTA AULA, VAMOS PARTICIPAR DE UMA BRINCADEIRA MUITO CONHECIDA. O BINGO! PEGUE SUA CARTELA E VAMOS JOGAR! <b>ATIVIDADE Nº 4- BINGO DE LETRAS</b></p>	<p><b>ATIVIDADE DE MATEMÁTICA</b></p>  <p>NO CADERNO DE <b>MATEMÁTICA</b>-</p> <ul style="list-style-type: none"><li>• ROTINA: CABEÇALHO,</li><li>• NOME COMPLETO;</li><li>• FAÇA OS NUMERAIS DO 40 AO 50.</li></ul> <p>USE A FICHA DE ESTUDOS CASO TENHA DÚVIDAS.</p> <p><b>ATIVIDADE 2- FOLHINHA SEQUÊNCIA CIRCO</b> OBJETIVO: DESENVOLVER ESTRATÉGIAS DE CONTAGEM E REGISTRAR NÚMEROS MENORES QUE 10 CONVENCIONALMENTE.</p> <p><b>ATIVIDADE Nº 3- FOLHINHA SEQUÊNCIA CIRCO.</b> RESOLVA AS SITUAÇÕES PROBLEMA. FAÇA DESENHOS PARA AJUDAR ENCONTRAR OS RESULTADOS.</p>	<p><b>ATIVIDADE DE PORTUGUÊS</b></p>  <p>NO CADERNO DE <b>PORTUGUÊS</b>-</p> <ul style="list-style-type: none"><li>• ROTINA: CABEÇALHO,</li><li>• NOME COMPLETO;</li><li>• FAÇA O ALFABETO E CIRCULE AS VOGAIS.</li></ul> <p>USE A FICHA DE ESTUDOS CASO TENHA DÚVIDAS.</p> <p><b>ATIVIDADE 1- FOLHINHA INTERPRETAÇÃO DE TEXTO.</b> DEPOIS DE OUVIR A HISTÓRIA DE CHAPEUZINHO VERMELHO, RESPONDA AS PERGUNTAS. <b>CASO VOCÊ NÃO SE LEMBRE DA HISTÓRIA, VOU COLOCAR O LINK AQUI NOVAMENTE:</b> LINK: <a href="https://www.youtube.com/watch?v=GVEb9K9lyzQ">https://www.youtube.com/watch?v=GVEb9K9lyzQ</a></p>	<p><b>PONTO FACULTATIVO</b></p>	<p><b>FERIADO - SEMANA SANTA</b></p>



**ATIVIDADES DA SEMANA DE 29/03 À 02/04/2021**  
**ATIVIDADE Nº1 PORTUGUÊS**  
**DATA: 29/03/2021**  
**INTERPRETAÇÃO DE TEXTO.**

• O QUE A MÃE DE CHAPEUZINHO VERMELHO LHE DISSE ANTES DE SAIR DE CASA?

QUE CONVERSASSE COM ESTRANHOS.

QUE NÃO CONVERSASSE COM ESTRANHOS.

• CHAPEUZINHO VERMELHO OBEDECEU À SUA MÃE?

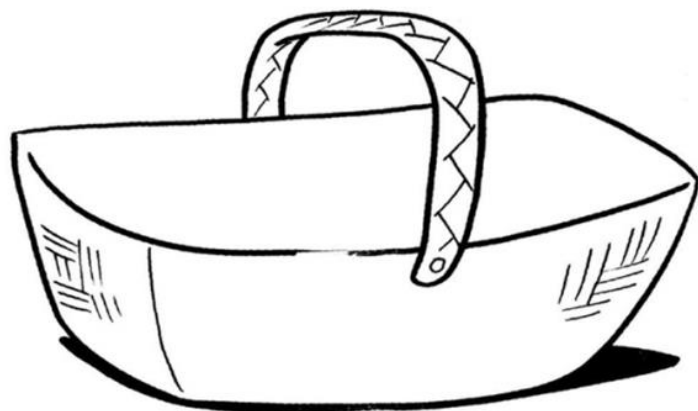
  

SIM, PORQUE ELA NÃO CONVERSOU COM UM ESTRANHO.

NÃO, PORQUE ELA CONVERSOU COM O LOBO MAU, QUE ELA NÃO CONHECIA.

**A CESTA DA VOVÓ**

CHAPEUZINHO VERMELHO LEVOU ALIMENTOS PARA VOVÓ DENTRO DA CESTA. E VOCÊ, O QUE VAI LEVAR PARA SUA VOVÓ DENTRO DA CESTA?



**ATIVIDADE Nº 2- MATEMÁTICA**  
**DATA: 30/03/2021**  
**SEQUÊNCIA DIA DO CIRCO**

Objetivo: desenvolver estratégias de contagem e registrar números menores que 10 convencionalmente .

O PALHAÇO MALABARISTA




OS PALHAÇOS ESTÃO FAZENDO MALABARISMO COM BOLAS. CONTE A QUANTIDADE DE BOLAS DE CADA PALHAÇO E ANOTE.



### ATIVIDADE Nº 3- AULA PELO ZOOM

DATA:31/03/2021

BINGO DE LETRAS!!

	E	Y	A
B		F	L
P	T	Z	

**BOA SORTE!**

### ATIVIDADE Nº 4- MATEMÁTICA

DATA: 01/04/2021

Objetivo: desenvolver a interpretação de situações-problema, bem como aprimorar o cálculo de subtração.

#### O PALHAÇO PIPOCA

O PALHAÇO PIPOCA TINHA UM PACOTE COM 9 BALÕES PARA FAZER SUA APRESENTAÇÃO NO CIRCO. ELE JÁ USOU 5 BALÕES. QUANTOS BALÕES LHE RESTARAM NO PACOTE?



CALCULE AQUI!!

RESTARAM \_\_\_\_ BALÕES NO PACOTE.

#### O PALHAÇO SUSPIRO

O PALHAÇO SUSPIRO É BEM POPULAR NO CIRCO "COSQUINHA". EM UM ESPETÁCULO ELE APARECEU 3 VEZES NO COMEÇO DA APRESENTAÇÃO E MAIS 2 NO FINAL. QUANTAS VEZES ELE APARECEU?



CALCULE AQUI!!

ELE APARECEU \_\_\_\_\_ VEZES NA APRESENTAÇÃO.